

Nimi: ..... Kool: ..... Klass: .....

**1. AJAJOONE ÜLESANNE – TEHISKAASLASED  
MAAILMARUUMIS.**

**a. Pane kosmosetehnika ajateljele orbiidile lennutamise aja järgi.**

*PLANCK, HUBBLE, ESTCUBE, SPIRIT, OPPORTUNITY, GAIA, MIR*



**b. Mis tüüpi aparaadiga on tegemist? Mida aparaat uurib?**

PLANCK	HUBBLE	ESTCUBE	SPIRIT	OPPORTUNITY	GAIA	MIR

**c. Milline aparaat võiks olla selle pildi teinud? Miks sa nii arvad?**




---

---

---

---



2. POSTRIÜLESANNE – TIPPTEHNOLOOGIA MAA PEAL.

a. Leia õige poster (vihje lahenduses) ja koosta ise ristsõna.




								V															
								E															
								G															
								E															
								T															
								A															
								T															
								I															
								O															
								N															

*Lahendus: Suur V miniatuurse satelliidi nimetuses tähendab taimkatet (ing. k.).*

Sinu küsimused:

1. \_\_\_\_\_
2. \_\_\_\_\_
3. \_\_\_\_\_
4. \_\_\_\_\_
5. \_\_\_\_\_
6. \_\_\_\_\_
7. \_\_\_\_\_
8. \_\_\_\_\_
9. \_\_\_\_\_
10. \_\_\_\_\_




### 3. ARVUTIÜLESANNE – KÕNETAV AJALUGU.

Ava veebilehitseja <https://www.aai.ee/muuseum/Aegrida/HTML/>

Vali menüüst aastaarvude vahemik *kuni 2000*.


a. Vali igasse kasti 1–2 huvipakkuvat fakti ja täida tabel.



<i>Aasta</i>	<i>Astronoomia Kosmosetehnoloogia</i>	<i>Eesti ajalugu</i>	<i>Kunst</i>
1959			
	Luna 9 ja Surveyor 1 maanduvad Kuul.		
		Avatakse Tartu Ülikooli Ajaloomuuseum.	
			New Yorgi kunstioksjonil makstakse rekordilist hinda V. van Goghi maali “Dr. Gachet’ portree” eest 82,5 milj. USD.

4. TEKSTÜLESANNE – TEHNOLOOGILISTE LAHENDUSTE MITMEKESISUS.

a. Kirjuta iga pildi alla eseme nimetus. Millist neist me ei liigita kosmostehnoloogia alla? Miks?



b. Paiguta aparaadid õigesse järjekorda alustades Maale lähimast.



c. Millise aparaadiga uuriksid Päikest, Kuud, Maad või Marssi?